

Addiere schriftlich und umkreise die passenden Ergebnishufe.  
Welches Ergebnis passt zu keiner Aufgabe?

3	6	2
+	1	3
<hr/>		

4	5	3
+	3	4
<hr/>		

7	4	3
+	2	5
<hr/>		

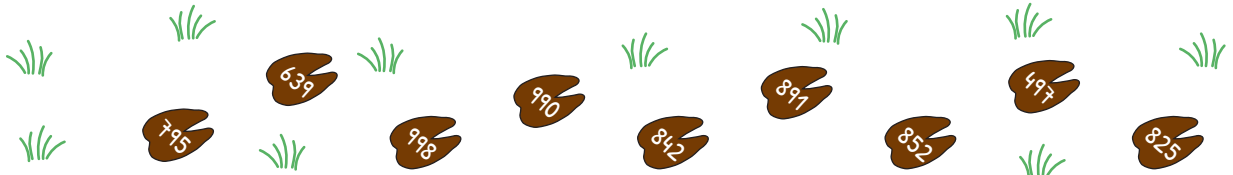
5	6	2
+	4	2
<hr/>		

2	7	4
+	5	5
<hr/>		

5	2	7
+	3	6
<hr/>		

4	6	2
+	1	7
<hr/>		

6	3	4
+	2	1
<hr/>		



5	9	8
+	2	1
<hr/>		

7	5	6
+	1	6
<hr/>		

7	9	7
+	1	1
<hr/>		


4	2	6
+	3	8
<hr/>		

5	9	9
+	1	9
<hr/>		

5	8	6
+	3	7
<hr/>		

7	4	9
+	1	8
<hr/>		

5	2	9
+	4	7
<hr/>		



Addiere schriftlich und umkreise die passenden Ergebnishufe.  
Welches Ergebnis passt zu keiner Aufgabe?

3	6	2
+	1	3
<hr/>		
4	9	7

4	5	3
+	3	4
<hr/>		
7	9	5

7	4	3
+	2	5
<hr/>		
9	9	8

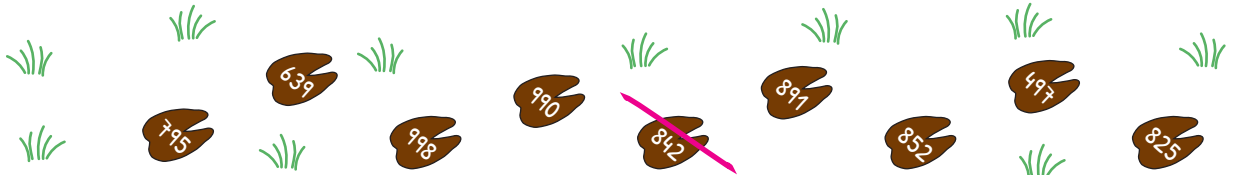
5	6	2
+	4	2
<hr/>		
		1
<hr/>		
9	9	0

2	7	4
+	5	5
<hr/>		
1		
<hr/>		
8	2	5

5	2	7
+	3	6
<hr/>		
	1	
<hr/>		
8	9	1

4	6	2
+	1	7
<hr/>		
1		
<hr/>		
6	3	9

6	3	4
+	2	1
<hr/>		
	1	
<hr/>		
8	5	2



5	9	8
+	2	1
<hr/>		
1	1	
<hr/>		
8	1	6

7	5	6
+	1	6
<hr/>		
1	1	
<hr/>		
9	2	0

7	9	7
+	1	1
<hr/>		
1		
<hr/>		
9	0	9

4	2	6
+	3	8
<hr/>		
1	1	
<hr/>		
8	1	3

5	9	9
+	1	9
<hr/>		
1	1	
<hr/>		
7	9	8

5	8	6
+	3	7
<hr/>		
1	1	
<hr/>		
9	6	5

7	4	9
+	1	8
<hr/>		
1	1	
<hr/>		
9	3	4

5	2	9
+	4	7
<hr/>		
1	1	
<hr/>		
1	0	0

